





TABEL UJI VALIDASI

Beri tanda ceklis (✓) pada kolom C apabila soal dinilai cocok dan TC apabila soal dinilai tidak cocok dengan indikator!

Aspek	Sub Aspek	Indikator	Soal Tes	Teknik	Cocok (C)	Tidak Cocok (TC)
Konsep nilai mata uang	Mengenal nilai mata uang	<p>Anak mampu menunjukkan nilai mata uang</p> <ul style="list-style-type: none"> - Rp. 100 - Rp. 500 - Rp. 5.000 	<p>1. Coba tunjukkan mana uang Rp. 100!</p>  <p>2. Coba tunjukkan mana uang Rp. 500!</p>  <p>3. Coba tunjukkan mana uang Rp. 5.000!</p> 	Tes Perbuatan	<p>✓</p> <p>✓</p> <p>✓</p>	

		<p>Anak mampu menyebutkan</p> <ul style="list-style-type: none"> - Rp. 100 - Rp. 500 - Rp. 5.000 	<p>4. Sebutkan berapakah nilai mata uang ini?</p>  <p>5. Sebutkan berapakah nilai mata uang ini?</p>  <p>6. Sebutkan berapakah nilai mata uang ini?</p> 	<p>Tes Lisan</p>	<p>✓</p> <p>✓</p> <p>✓</p>	
	Memahami nilai mata uang	<p>Anak mampu menyebutkan</p> <ul style="list-style-type: none"> - Rp. 500 = Rp. 100+ Rp. 100+Rp. 100+Rp. 100+Rp. 100 	<p>7. Jika kamu ingin memiliki uang Rp. 500 berapa uang Rp. 100 yang kamu butuhkan?</p> <p>8. Jika kamu ingin memiliki uang Rp. 1.000 berapa uang Rp. 500 yang kamu butuhkan?</p>	<p>Tes Perbuatan</p>	<p>✓</p> <p>✓</p>	




		<ul style="list-style-type: none"> - Rp. 1.000 = Rp. 500+Rp.500 - Rp. 2.000 = Rp. 1.000+Rp. 1.000 - Rp. 5.000= Rp.1.000+Rp.1.000+Rp.1.000+Rp.1.000 	<p>9. Jika kamu ingin memiliki uang Rp. 2.000 berapa uang Rp. 1.000 yang kamu butuhkan?</p> <p>10. Jika kamu ingin memiliki uang Rp. 5.000 berapa uang Rp. 1.000 yang kamu butuhkan?</p>		✓	
		Mencocokkan nilai mata uang berbentuk logam dan mata uang berbentuk kertas	<p>11. Manakah yang nilainya sama dengan uang logam Rp. 1.000?</p> 	Tes Perbuatan	✓	
Keterampilan menggunakan uang	Menjumlahkan nilai mata uang	Anak mampu menjumlahkan belanjaan yang telah	12. Berapa jumlah uang Rp. 1000 yang kamu perlukan untuk membeli barang/sesuatu seharga Rp. 2.000?	Tes Perbuatan	✓	


		dibeli dan membayarnya dengan uang yang pas	13. Berapa jumlah uang Rp. 2.000 yang kamu butuhkan untuk membeli barang/sesuatu seharga Rp. 4.000?		✓	
	Menghitung kembalian atau sisa uang	Anak mampu menghitung kembalian setelah membayar belanjaan dengan uang yang lebih besar dari harga barang	14. Berapa kembalian uang yang kamu terima jika membeli barang/sesuatu seharga Rp. 2.000 dengan membayar Rp. 5.000? 15. Berapa kembalian uang yang kamu terima jika membeli barang/sesuatu seharga Rp. 3.000 dengan membayar uang Rp. 5.000?	Tes Perbuatan	✓ ✓	

TABEL UJI VALIDASI

Beri tanda ceklis (✓) pada kolom C apabila soal dinilai cocok dan TC apabila soal dinilai tidak cocok dengan indikator!

Aspek	Sub Aspek	Indikator	Soal Tes	Teknik	Cocok (C)	Tidak Cocok (TC)
Konsep nilai mata uang	Mengenal nilai mata uang	<p>Anak mampu menunjukkan nilai mata uang</p> <ul style="list-style-type: none"> - Rp. 100 - Rp. 500 - Rp. 5.000 	<p>1. Coba tunjukkan mana uang Rp. 100!</p>  <p>2. Coba tunjukkan mana uang Rp. 500!</p>  <p>3. Coba tunjukkan mana uang Rp. 5.000!</p> 	Tes Perbuatan	<p>✓</p> <p>✓</p> <p>✓</p>	



		<p>Anak mampu menyebutkan</p> <ul style="list-style-type: none"> - Rp. 100 - Rp. 500 - Rp. 5.000 	<p>4. Sebutkan berapakah nilai mata uang ini?</p>  <p>5. Sebutkan berapakah nilai mata uang ini?</p>  <p>6. Sebutkan berapakah nilai mata uang ini?</p> 	Tes Lisan	✓	
	Memahami nilai mata uang	<p>Anak mampu menyebutkan</p> <ul style="list-style-type: none"> - Rp. 500 = Rp. 100+ Rp. 100+Rp. 100+Rp. 100+Rp. 100 	<p>7. Jika kamu ingin memiliki uang Rp. 500 berapa uang Rp. 100 yang kamu butuhkan?</p> <p>8. Jika kamu ingin memiliki uang Rp. 1.000 berapa uang Rp. 500 yang kamu butuhkan?</p>	Tes Perbuatan	✓	✓




		<ul style="list-style-type: none"> - Rp. 1.000 = Rp. 500+Rp.500 - Rp. 2.000 = Rp. 1.000+Rp. 1.000 - Rp. 5.000= Rp.1.000+Rp.1.000+Rp.1.000+Rp.1.000 	<p>9. Jika kamu ingin memiliki uang Rp. 2.000 berapa uang Rp. 1.000 yang kamu butuhkan?</p> <p>10. Jika kamu ingin memiliki uang Rp. 5.000 berapa uang Rp. 1.000 yang kamu butuhkan?</p>		✓	
		Mencocokkan nilai mata uang berbentuk logam dan mata uang berbentuk kertas	<p>11. Manakah yang nilainya sama dengan uang logam Rp. 1.000?</p> 	Tes Perbuatan	✓	
Keterampilan menggunakan uang	Menjumlahkan nilai mata uang	Anak mampu menjumlahkan belanjaan yang telah	12. Berapa jumlah uang Rp. 1000 yang kamu perlukan untuk membeli barang/sesuatu seharga Rp. 2.000?	Tes Perbuatan	✓	


		dibeli dan membayarnya dengan uang yang pas	13. Berapa jumlah uang Rp. 2.000 yang kamu butuhkan untuk membeli barang/sesuatu seharga Rp. 4.000?		✓	
	Menghitung kembalian atau sisa uang	Anak mampu menghitung kembalian setelah membayar belanjaan dengan uang yang lebih besar dari harga barang	14. Berapa kembalian uang yang kamu terima jika membeli barang/sesuatu seharga Rp. 2.000 dengan membayar Rp. 5.000? 15. Berapa kembalian uang yang kamu terima jika membeli barang/sesuatu seharga Rp. 3.000 dengan membayar uang Rp. 5.000?	Tes Perbuatan	✓ ✓	

TABEL UJI VALIDASI

Beri tanda ceklis (✓) pada kolom C apabila soal dinilai cocok dan TC apabila soal dinilai tidak cocok dengan indikator!

Aspek	Sub Aspek	Indikator	Soal Tes	Teknik	Cocok (C)	Tidak Cocok (TC)
Konsep nilai mata uang	Mengenal nilai mata uang	<p>Anak mampu menunjukkan nilai mata uang</p> <ul style="list-style-type: none"> - Rp. 100 - Rp. 500 - Rp.5.000 	<p>1. Coba tunjukkan mana uang Rp. 100!</p>  <p>2. Coba tunjukkan mana uang Rp. 500!</p>  <p>3. Coba tunjukkan mana uang Rp. 5.000!</p> 	Tes Perbuatan	<p>✓</p> <p>✓</p> <p>✓</p>	

		<p>Anak mampu menyebutkan</p> <ul style="list-style-type: none"> - Rp. 100 - Rp. 500 - Rp. 5.000 	<p>4. Sebutkan berapakah nilai mata uang ini?</p>  <p>5. Sebutkan berapakah nilai mata uang ini?</p>  <p>6. Sebutkan berapakah nilai mata uang ini?</p> 	Tes Lisan	✓	
	Memahami nilai mata uang	<p>Anak mampu menyebutkan</p> <ul style="list-style-type: none"> - Rp. 500 = Rp. 100+ Rp. 100+Rp. 100+Rp. 100+Rp. 100 	<p>7. Jika kamu ingin memiliki uang Rp. 500 berapa uang Rp. 100 yang kamu butuhkan?</p> <p>8. Jika kamu ingin memiliki uang Rp. 1.000 berapa uang Rp. 500 yang kamu butuhkan?</p>	Tes Perbuatan	✓	

		<ul style="list-style-type: none"> - Rp. 1.000 = Rp. 500+Rp.500 - Rp. 2.000 = Rp. 1.000+Rp. 1.000 - Rp. 5.000= Rp.1.000+Rp.1.000+Rp.1.000+Rp.1.000+Rp.1.000 	<p>9. Jika kamu ingin memiliki uang Rp. 2.000 berapa uang Rp. 1.000 yang kamu butuhkan?</p> <p>10. Jika kamu ingin memiliki uang Rp. 5.000 berapa uang Rp. 1.000 yang kamu butuhkan?</p>		✓ ✓	
		Mencocokkan nilai mata uang berbentuk logam dan mata uang berbentuk kertas	<p>11. Manakah yang nilainya sama dengan uang logam Rp. 1.000?</p> 	Tes Perbuatan	✓	
Keterampilan menggunakan uang	Menjumlahkan nilai mata uang	Anak mampu menjumlahkan belanjaan yang telah	12. Berapa jumlah uang Rp. 1000 yang kamu perlukan untuk membeli barang/sesuatu seharga Rp. 2.000?	Tes Perbuatan	✓	

		dibeli dan membayarnya dengan uang yang pas	13. Berapa jumlah uang Rp. 2.000 yang kamu butuhkan untuk membeli barang/sesuatu seharga Rp. 4.000?		✓	
	Menghitung kembalian atau sisa uang	Anak mampu menghitung kembalian setelah membayar belanjaan dengan uang yang lebih besar dari harga barang	14. Berapa kembalian uang yang kamu terima jika membeli barang/sesuatu seharga Rp. 2.000 dengan membayar Rp. 5.000? 15. Berapa kembalian uang yang kamu terima jika membeli barang/sesuatu seharga Rp. 3.000 dengan membayar uang Rp. 5.000?	Tes Perbuatan	✓ ✓	