




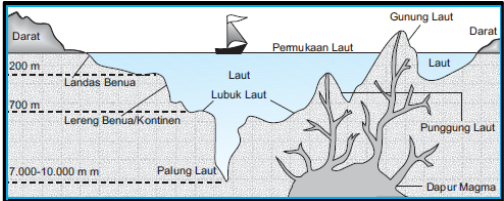
RUBRIK PENILAIAN INSTRUMEN PENELITIAN TES BENTUK URAIAN OBJEKTIF (BUO)

Sekolah : SMP Kahuripan Lembang
 Mata Pelajaran : Ilmu Pengetahuan Sosial
 Kelas/ Semester : VII (Tujuh) / 1 (Satu)
 Jumlah Soal : 12 butir
 Topik : Memahami lingkungan kehidupan manusia
 Pokok Bahasan : Keragaman Bentuk Muka Bumi
 Standar Kompetensi : 1. Memahami lingkungan kehidupan manusia
 Kompetensi Dasar : 1.1 Mendeskripsikan keragaman bentuk muka bumi, proses pembentukan, dan dampaknya terhadap kehidupan
 Variabel Penelitian : Peningkatan Hasil Belajar

No	Indikator	Soal	Kunci Jawaban dan Penskoran	No. Soal
1	Peserta didik mampu menentukan jenis-jenis bentuk muka bumi pada setiap bagiannya	 <p style="text-align: center;">1 2 3 4</p> <p>Coba kamu tentukan mana gambar yang termasuk ke dalam jenis dataran yang menonjol ke atas?</p>	<p>(skor 4) Gambar nomor 1 & 3</p> <p>(skor 2) Menyebutkan satu gambar yang benar</p> <p>(skor 0) Jawaban salah</p>	4
		 <p style="text-align: center;">1 2 3 4</p> <p>Tentukan gambar mana yang termasuk ke dalam jenis dataran yang cekung ke bawah?</p>	<p>(skor 4) Gambar nomor 2 & 3</p> <p>(skor 2) Menyebutkan satu gambar yang benar</p> <p>(skor 0) Jawaban salah</p>	5

2	Peserta didik mampu mendefinisikan jenis-jenis bentuk muka bumi pada setiap bagiannya	Apa yang dimaksud dengan relief muka bumi?	(skor 4) Kenampakan tinggi rendahnya muka bumi (skor 2) Jawaban kurang lengkap (skor 0) Jawaban salah	1
		Planet yang memiliki urutan ke tiga dari matahari dan planet terbesar kelima dari semua planet yang ada di tata surya, pernyataan tersebut merupakan definisi dari?	(skor 4) Bumi (skor 0) Jawaban salah	2
3	Peserta didik mampu membedakan jenis-jenis bentuk muka bumi pada setiap bagiannya	Pada umumnya relief muka bumi dibagi menjadi dua bagian utama, antara lain?	(skor 4) Daratan & lautan (skor 2) Menyebutkan hanya satu bagian yang benar (skor 0) Jawaban salah	3
		 <p style="text-align: center;">1 2</p> <p>Apakah nama bentuk muka bumi pada gambar 1 dan 2?</p>	(skor 4) Bukit dan gunung (skor 2) Menyebutkan hanya satu gambar yang benar (skor 0) Jawaban salah	6
4	Peserta didik mampu memberi contoh pada jenis-jenis bentuk muka bumi pada setiap bagiannya	Berikan masing-masing 3 (tiga) contoh relief berdasarkan dua bagian utama bentuk muka bumi?	(skor 4) Daratan : gunung, bukit, dataran tinggi, pegunungan Lautan : palung, punggung laut, lubuk laut, gunung bawah laut	7

			<p>(skor 3) Menyebutkan 5 contoh yang benar</p> <p>(skor 2) Menyebutkan 3 contoh yang benar</p> <p>(skor 1) Menyebutkan hanya 2 yang benar</p> <p>(skor 0) Jawaban tidak sesuai</p>	
		Sebutkan 2 (dua) nama gunung yang ada di provinsi Jawa Barat?	<p>(skor 4) Gn Tangkuban Perahu, Gn Ciremai, Gn Gede, Gn Cikuray, Gn Guntur, Gn Papandayan, Gn Cereme, Gn Salak, Gn Patuha, Gn Malabar, Gn Galunggung, Gn Tampomas, dll</p> <p>(skor 2) Menyebutkan satu nama gunung yang benar</p> <p>(skor 0) Jawaban tidak sesuai</p>	8
5	Peserta didik mampu menjelaskan jenis-jenis bentuk muka bumi pada setiap bagiannya	Jelaskan jenis-jenis bentuk muka bumi yang menonjol ke atas?	<p>(skor 4) Gunung, Bukit, Pegunungan</p> <p>(skor 2) Menyebutkan dua nama gunung yang benar</p> <p>(skor 1) Menyebutkan satu nama gunung yang benar</p> <p>(skor 0) Jawaban tidak sesuai</p>	9
		Jelaskan ciri-ciri dari dataran tinggi?	<p>(skor 4) Beriklim sejuk, area pertanian dibuat berteras, cadangan air cukup, mayoritas kegiatan pertanian.</p> <p>(skor 3) Menyebutkan 3 ciri. 2 ciri sesuai dengan jawaban di</p>	10

			<p>atas, 1 alasan lain yang masih berhubungan (skor 2) Menyebutkan 2 alasan lain yang masih berhubungan. (skor 1) Jawaban tidak sesuai dengan jawaban di atas. (skor 0) Tidak memberikan jawaban.</p>	
6	<p>Peserta didik mampu memilih jenis-jenis bentuk muka bumi pada setiap bagiannya</p>	 <p>1 2 3</p> <p>Suatu bentuk permukaan tanah yang letaknya jauh lebih tinggi dari pada tanah-tanah di daerah sekitarnya, pernyataan tersebut merupakan definisi dari gambar?</p>	<p>(skor 4) Gambar nomor 3 (skor 0) Jawaban salah</p>	11
		 <p>Dasar laut yang dalam dan sempit dengan dinding yang curam membentuk corong dan memanjang, pernyataan tersebut merupakan definisi dari?</p>	<p>(skor 4) Palung laut (skor 0) Jawaban salah</p>	12